

TREŠĀ ATLASES ANKETA


ZEME

1. Savieno atkritumus ar to sadalīšanās laikiem dabā! (9p)



Līdz 2 gadiem

5 gadi



10 – 12 gadi



10 – 20 gadi



25 – 50 gadi



50 gadi




100 gadi

550 gadi

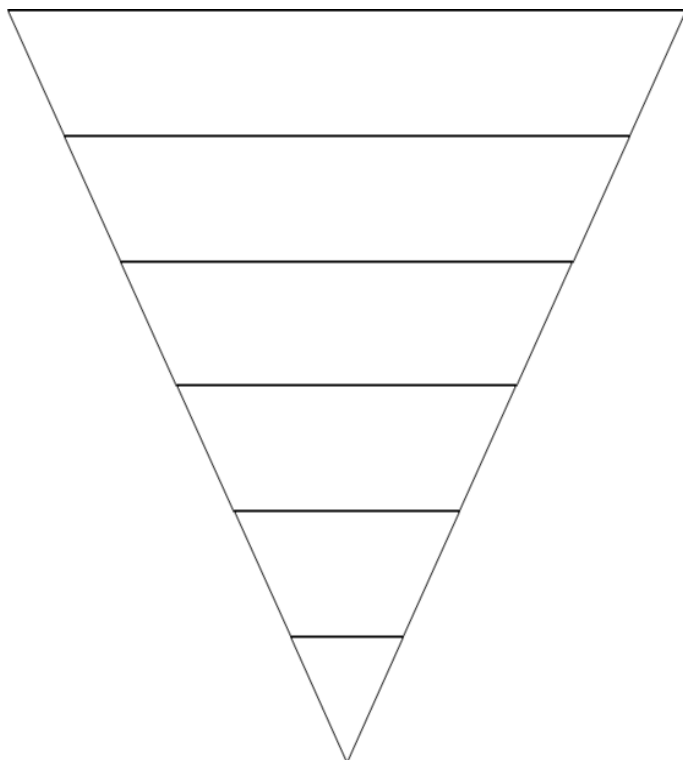


1 milj. gadu



2. Sakārto atkritumu apsaimniekošanas apsaimniekošanas veidus pareizajās vietās! (6p)

hierarhiju, ievietojot atkritumu



Kontrolēta sadedzināšana
enerģijas iegūšanai

Samazināšana un rašanās
novēršana

Atkārtota izmantošana

Kontrolēta sadedzināšana bez
enerģijas iegūšanas

Apglabāšana poligonā

Otrreizējā pārstrāde un
kompostēšana

3. Uzraksti atšifrējumu šiem plastmasas veidiem! (6p)

PET _____

HDPE _____

PVC _____

LDPE _____

PP _____

PS _____

4. Pie katras no bildēm pieraksti kādu no doto koordinātu burtiem. Zem bildēm pieraksti šo vietu nosaukumu, kā arī ko tur iegūst vai plānoja iegūt! (12p)

A) 7°31'37.0"S 112°42'40.9"E

C) 40°31'54.4"N 112°08'34.0"W

B) 40°15'08.8"N 58°26'22.5"E

D) 44°05'36.1"N 10°08'14.0"E

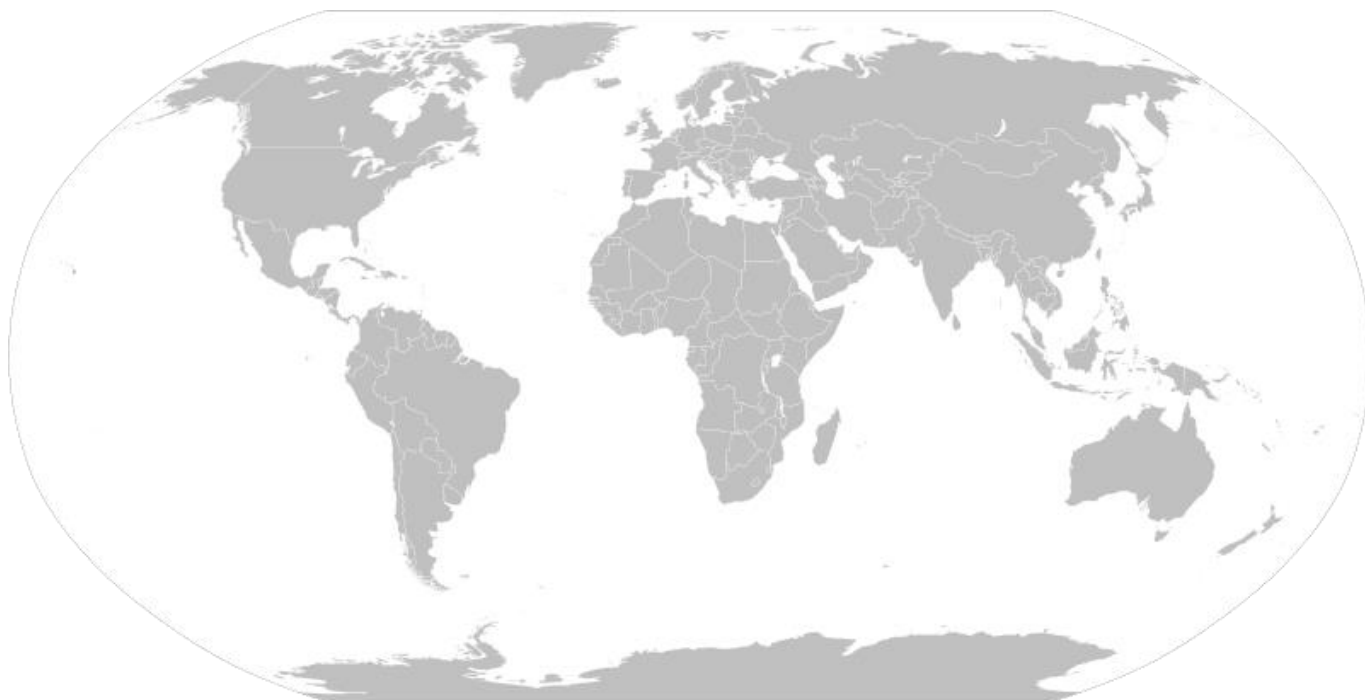




5. Izlasi apgalvojumus! Ar P apzīmē patiesos un ar M - melus! (5p)

	“Lielā zaļā siena” ir projekts, kurš iekļauj 20 valstis, lai apturētu Sahāras tuksneša izplatīšanos.
	Vislielākais militārā piesārņojuma apjoms Latvijā ir Alūksnes apkārtnē.
	Kāpu apbūve samazina krastu noskalošanas risku.
	ASV nav nevienas ilgtermiņa kodolatkritumu glabātuves.
	Putniem nolaišanās Inčukalna sērskābā gudrona dīķī nav bīstama.

6. Atzīmē 6 lielākās pilsētu aglomerācijas pasaulē pēc iedzīvotāju skaita! Pieraksti to nosaukumus! (12p)



📌 ATBILŽU IESŪTĪŠANAS TERMIŅŠ NO 21. FEBRUĀRA LĪDZ 24. MARTAM.

ZIŅAS PAR DALĪBNIEKIEM

Komandas nosaukums: _____

Skola, klase: _____

Komandas kontaktinformācija:

E-pasts: _____

Telefona numurs: _____

Skolotājs, kontakti: _____